



Géométrie


Fiche 3

bis

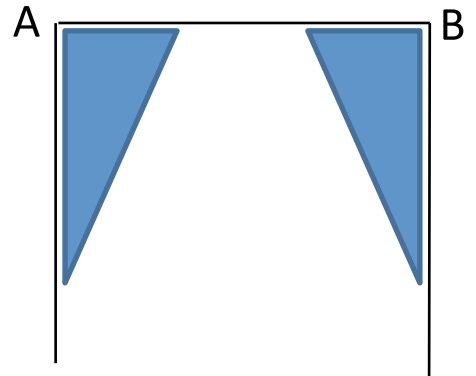
Les polygones particuliers : le rectangle

1 *Puis les étapes de construction*

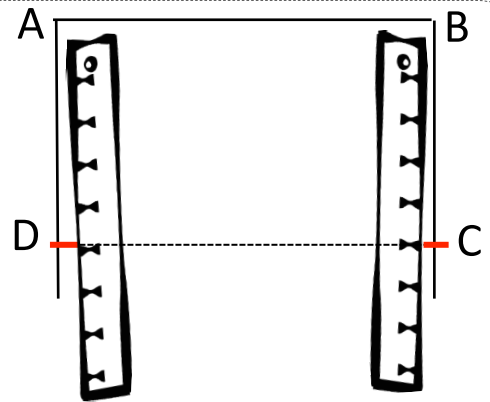
① Trace un segment $[AB]$ de 5 cm.



② Place ton équerre le long de $[AB]$ et trace un nouveau segment qui part de A.
Place ton équerre le long de $[AB]$ et trace un nouveau segment qui part de B.



③ Mesure 5 cm en partant du point A et place le point D.
Mesure 5 cm en partant du point B et place le point C



2 *À toi de jouer !!!*

