



Géométrie

Fiche 5
bis

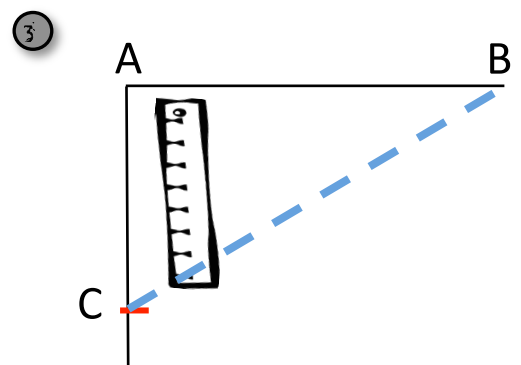
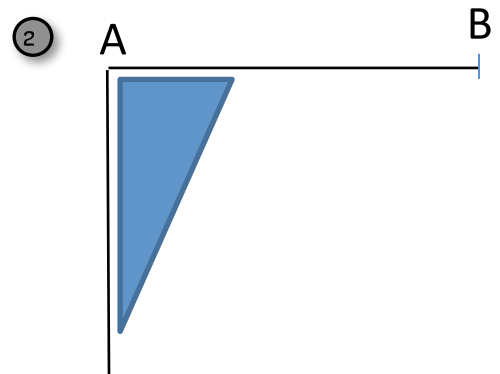

Les polygones particuliers : le triangle rectangle

1 Puis les étapes de construction

① Trace un segment $[AB]$ de 5 cm.

② Place ton équerre le long de $[AB]$ et trace un nouveau segment qui part de A.

③ Mesure 5 cm en partant du point A et place le point C.
Trace le segment $[BC]$.



2 À toi de jouer !!!

