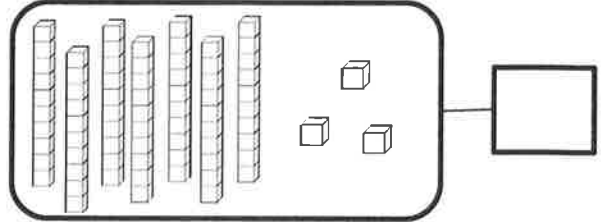
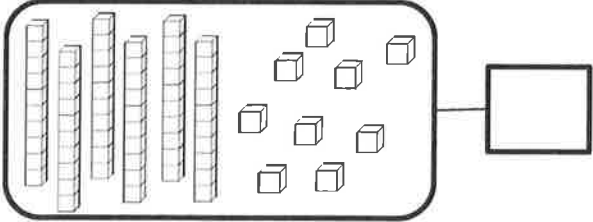
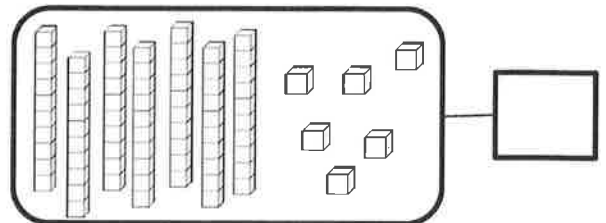
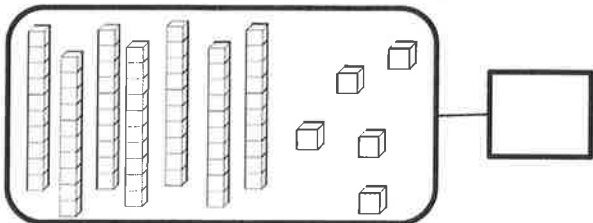



Nombres et quantités : de 0 à 80



1 Complète avec le bon nombre :



2 Complète la bande numérique:

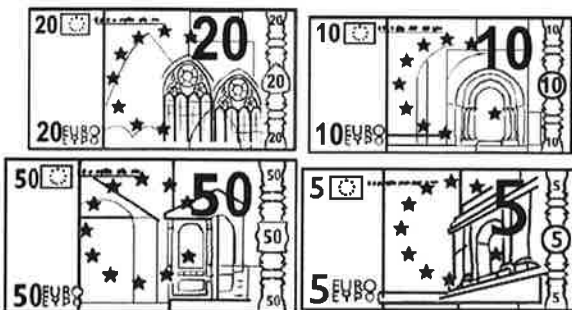


Nombres et quantités : de 0 à 80

1 Complète les cases grises du tableau des nombres

	31							
					46			
		52						
60					65			
								79

2 Colorie les pièces et billets correspondants à la somme dans la tirelire :



Calcul : table +4

$$4+6 = \dots$$

$$4+0 = \dots$$

$$4+8 = \dots$$

$$4+4 = \dots$$

$$4+7 = \dots$$

$$4+10 = \dots$$

$$4+1 = \dots$$

$$4+5 = \dots$$

$$4+3 = \dots$$

$$4+9 = \dots$$

$$4+2 = \dots$$