

Nombres et quantités : de 0 à 80

3  15

1 Complète avec $<$, $>$ ou $=$:

72 27

72 52

56 76

50 60

70 75

75 19

2 Ecris les nombres dans l'ordre croissant, du plus grand au plus petit :

24 - 35 - 46 - 42 - 32 - 64

□ □ □ □ □ □

Nombres et quantités: de 0 à 80



1 Trouve le nombre qui vient avant et celui qui vient après

□ — 78 — □

□ — 50 — □

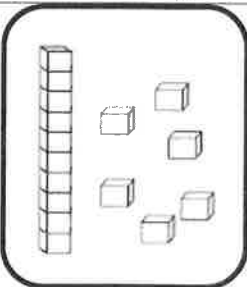
□ — 71 — □

□ — 63 — □


□ — 45 — □

□ — 75 — □


2 Dessine le nombre en barres



16



75



47



58

Les mots du jour

A apprendre pour <u>mardi</u>	être	<i>être</i>
A apprendre pour <u>mercredi</u>	avoir	<i>avoir</i>
A apprendre pour <u>jeudi</u>	charmant	<i>charmant</i>
A apprendre pour <u>vendredi</u>	beau	<i>beau</i>