

Nombres et quantités : de 0 à 80

3  15

1 Complète avec  $<$ ,  $>$  ou  $=$ :

72  $>$  27

72  $>$  52

56  $<$  76

50  $<$  60

70  $<$  75

75  $>$  19

2 Ecris les nombres dans l'ordre croissant, du plus grand au plus petit :

24 - 35 - 46 - 42 - 32 - 64

64

46

42

35

32

24

Nombres et quantités: de 0 à 80



1 Trouve le nombre qui vient avant et celui qui vient après

77 — 78 — 79

49 — 50 — 51

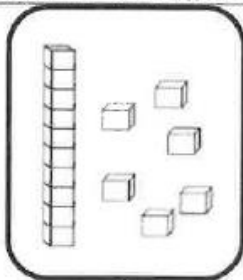
70 — 71 — 72

62 — 63 — 64

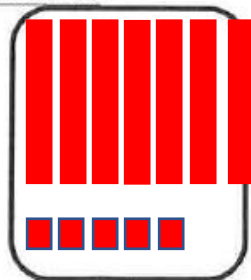
44 — 45 — 46

74 — 75 — 76

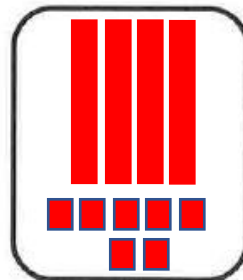
2 Dessine le nombre en barres



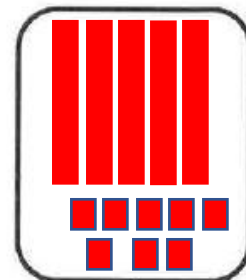
16



75



47



58