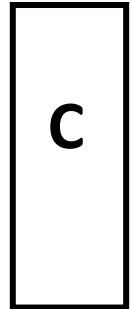
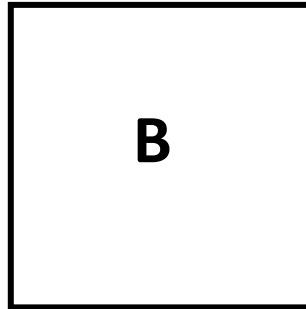



CARRE, LOSANGE, RECTANGLE

1- Complète le tableau suivant en cochant les bonnes cases



| | A | B | C |
|--|---|---|---|
| Il a 4 côtés. | | | |
| Il a 4 sommets | | | |
| Il a 4 angles droits | | | |
| Ses côtés sont tous de même longueur. | | | |
| Ses côtés sont de même longueur 2 à 2. | | | |
| Les côtés sont parallèles 2 à 2. | | | |

2- Devine de quel quadrilatère il s'agit

- a) J'ai 4 côtés qui sont de même longueur 2 à 2. Je suis le _____.
- b) J'ai 4 côtés qui sont de la même longueur mais pas d'angle droit. Je suis le _____.
- c) J'ai 4 côtés qui sont de la même longueur. J'ai 4 angles droits. Je suis le _____.
- d) Mes côtés sont parallèles 2 à 2. Tous mes côtés sont égaux. Je n'ai pas d'angle droits. Je suis le _____.
- e) Mes côtés sont parallèles 2 à 2. J'ai 4 angles droits. Mes 4 côtés sont de longueur égale. Je suis le _____.
- f) Mes côtés sont parallèles 2 à 2. J'ai 4 angles droits. Mes 4 côtés sont de même longueur 2 à 2. Je suis le _____.