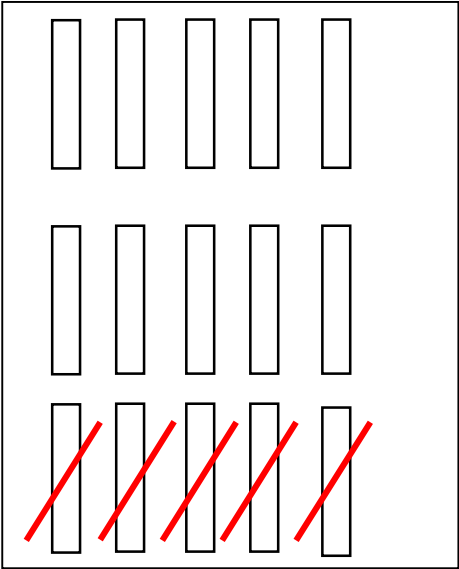




PROBLEMES




Il y a 15 balais dans le placard. Les sorcières en prennent 5.

**Combien de balais reste-t-il dans le placard ?**

\_\_\_\_\_ 15 - 5 \_\_\_\_\_ = \_\_\_\_\_ 10 \_\_\_\_\_

Il reste 10 balais dans le placard. ....

.....



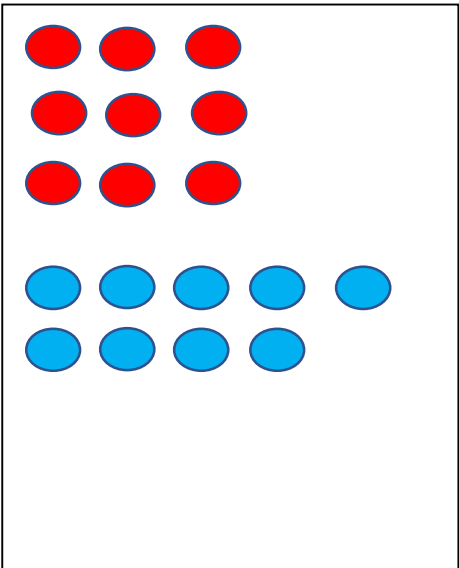
Une fée a 22 chapeaux bleus et 8 chapeaux roses.

**Combien de chapeaux la fée possède-t-elle ?**

\_\_\_\_\_ 22 + 8 \_\_\_\_\_ = \_\_\_\_\_ 30 \_\_\_\_\_

La fée possède 30 chapeaux. ....

.....



Il y a 9 ballons rouges et des ballons bleus. En tout, il y a 18 ballons.

**Combien y a-t-il de ballons bleus ?**

\_\_\_\_\_ 9 + 9 \_\_\_\_\_ = \_\_\_\_\_ 18 \_\_\_\_\_

Il y a 9 ballons bleus. ....

.....