
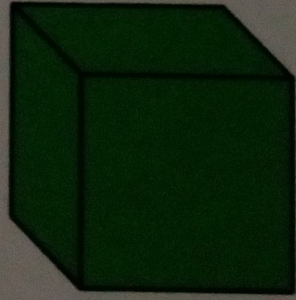


LES SOLIDES (Bilan)


1) Colorie les figures qui sont des solides.



2) Décris les solides suivants.



nombre de faces : *6*....
nombre d'arêtes : *12*..
nombre de sommets : *8*....
Les faces sont toutes des *carrés*.....
Je suis un *cube*.....



nombre de faces : *6*....
nombre d'arêtes : *12*..
nombre de sommets : *8*....
Les faces sont toutes des *carrés et des rectangles*.....
Je suis un *parallé*.....